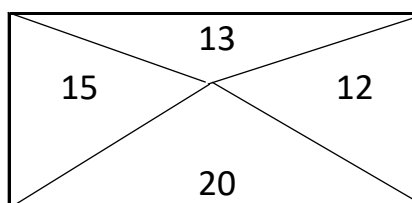
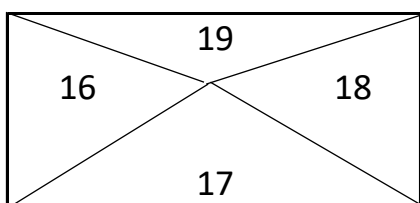
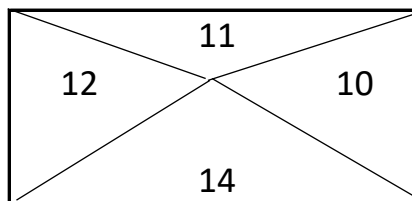
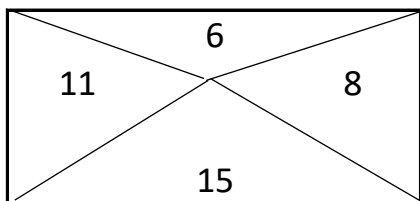


RIPASSO DEL 20 MAGGIO 2020

LEGGI CON MOLTA ATTENZIONE PIU' VOLTE LA CONSEGNA E POI ESEGUI.

QUAL E' IL NUMERO **MINORE** IN CIASCUN RIQUADRO?

COLORA DI GIALLO LA REGIONE IN CUI SI TROVA.



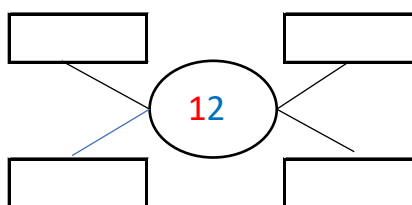
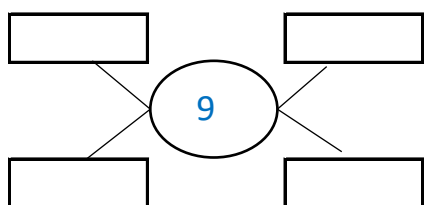
RISCRIVI I SEGUENTI NUMERI DAL MAGGIORE AL MINORE.

17      12      11      16      20      8      10

..... > ..... > ..... > ..... > ..... > .....

**RISPONDI.**      HAI MESSO IN ORDINE CRESCENTE O DECRESCENTE?  
HO MESSO IN ORDINE .....

SCRIVI 4 NUMERI MAGGIORI ( PIU' GRANDI ) DI QUELLO AL CENTRO.



OSSERVA LE DITA DELLE TUE MANINE E SCRIVI IL NUMERO CHE MANCA PER FORMARE 10.

..... + 4 = 10

5 + 2 + ..... = 10

3 + 4 + ..... = 10

7 + ..... = 10

5 + ..... = 10

8 + ..... = 10

3 + ..... + 1 = 10

2 + ..... = 10

6 + ..... = 10